


小 / 算数 / 3年 / 量と測定

2. 長さ / 理解シート

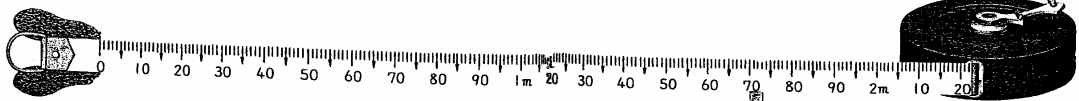
まきじゃくのしくみ^{つか}と使い方を教えて

まきじゃくは、 $1m$ より長い所^{ところ}の長さをはかるときにべんりなんだよ。走りはばとびでとんだ長さ、教室のたてや横の長さをはかるときに使うんだよ。

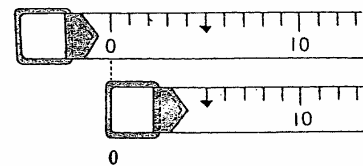


まきじゃくのしくみは、いちばん小さいめもりは、 $1cm$ が多いです。

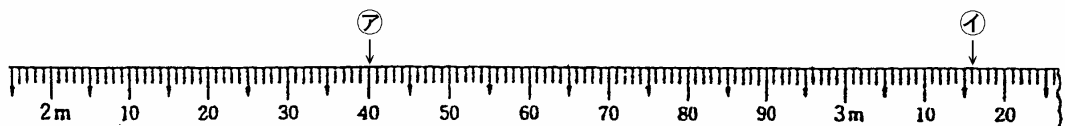
① まきじゃくは、下のようになっています。



② まきじゃくは、はかり^{はじ}始めに合わせる
0のめもりのいちが2しゅるいあります。



③ 下のまきじゃくのめもりを読みます。(ア・イ)



いちばん小さいめもりは $1cm$ です。10, 20, 30は $10cm$, $20cm$, $30cm$ を^{あらわ}表しています。

アのめもり→ $2m$ の右がわにあるので、 $2m$ より長い。 $40cm$ の所をさしているから、 $2m$ と $40cm$ 。めもりの長さは、 $2m40cm$ 。

イのめもり→ $3m$ より長い。 $10cm$ と、 $1cm$ のめもりの6つめをさしているから、 $16cm$ 。 $3m$ と $16cm$ 。めもりの長さは、 $3m16cm$ 。