


小 / 算数 / 3年 / 量と測定  
7. 時こくと時間 / 理解シート

9時10分から、40分たった時こくは、どうやってもとめればいいのか  
(時間のたし算)

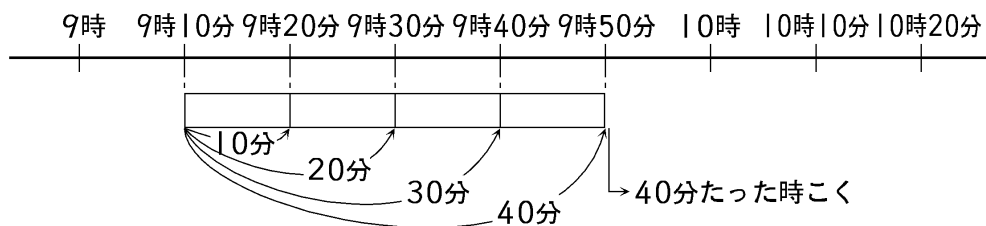


「40分たった時こく」は、たし算でもとめられるんだよ。  
すうちよくせん  
数直線にかいてみると、たし算がよくわかるよ。



9時10分から、40分たった時こくをもとめてみます。

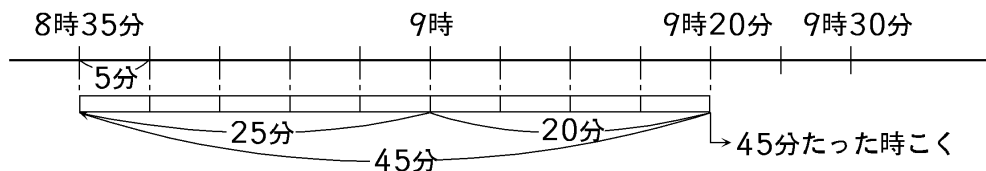
① 数直線に、9時10分から40分たったこと<sup>あらわ</sup>を表します。



- ア 1めもりは10分を表します。40分は4めもり分です。  
イ 40分たった時こくは、右へ4めもり分のところで、9時50分です。  
ウ 9時10分から40分たった時こくは、たし算でもとめられます。

$$9時10分 + 40分 = 9時50分 \quad \text{答え} \dots 9時50分$$

② 8時35分から45分たった時こくをもとめます。



- ア 1めもりは5分です。45分は9めもり分です。45分たった時こくは、8時35分から、右へ9めもり分のところで、9時20分です。  
イ 9時までは25分。45分 - 25分 = 20分。9時から20分後です。

$$8時35分 + 45分 \rightarrow (8時80分 \rightarrow 80分 - 60分 = 20分だから) \text{ 答え} \dots 9時20分$$