




午後5時から40分前の時こくは、どうやってもとめればいいのか

(時間のひき算)

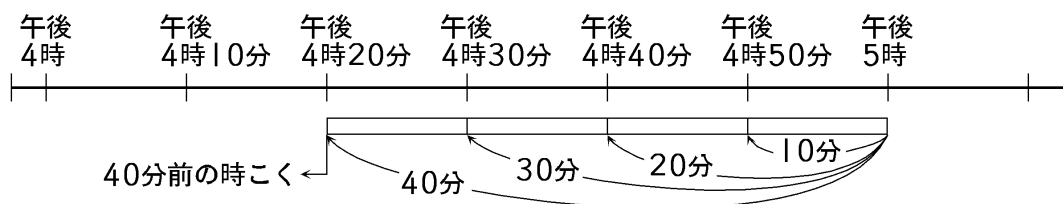


「40分前の時こく」は、ひき算でもとめればいいんだよ。
すうちよくせん
数直線にかいてみると、ひき算がよくわかるよ。



午後5時から40分前の時こくをもとめてみます。

① 数直線に、午後5時から40分前のこと^{あらわ}を表します。

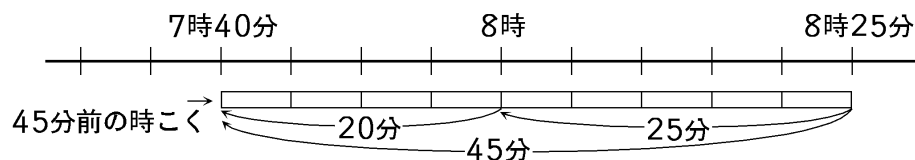


- ア 1めもりは10分を表します。40分は4めもり分です。
イ 40分前の時こくは、左へ4めもりのところで、午後4時20分です。
ウ 午後5時から40分前の時こくは、ひき算でもとめられます。

$$5時 - 40分 = 4時20分$$

答え…午後4時20分

② 8時25分から45分前の時こくをもとめます。



- ア 1めもりは5分を表します。45分前の時こくは、8時25分から左へ9めもりのところで、7時40分になります。
イ 8時25分 - 45分 \rightarrow (8時25分 - 25分 = 8時。

$$45分 - 25分 = 20分。8時 - 20分 = 7時40分)$$

答え…7時40分