



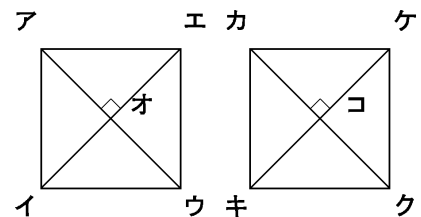
小 / 算数 / 4年 / 図形

垂直と平行 / 理解シート

## 方がん紙を使った、<sup>すいちよく</sup>垂直な直線のみつけ方を教えて



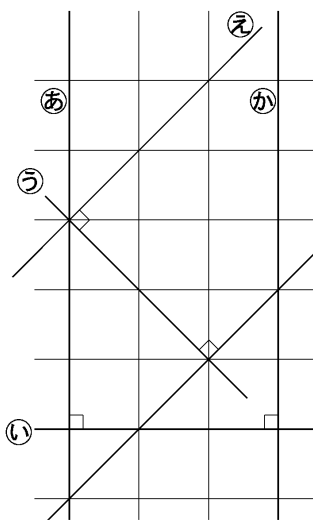
**ポイント**▶ 方がん紙の<sup>すいちよく</sup>1ますは、正方形。  
 直線アウと直線イエ } 垂直に  
 直線カクと直線キケ } 交わる



上のきまりを使います。

1

<sup>すいちよく</sup>垂直な直線の組をみつけます。



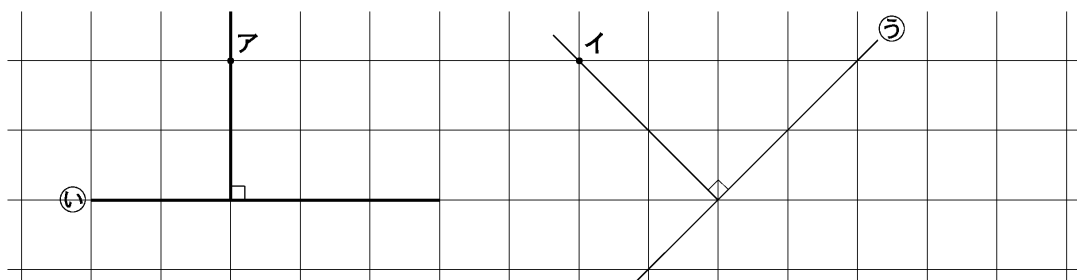
- 直線㉑と直線㉒
- 直線㉑と直線㉓
- 直線㉔と直線㉓
- 直線㉕と直線㉓

直線㉑・直線㉒と直線㉓, 直線㉔・直線㉕と直線㉓は, それぞれ垂直に交わっているんだよ。



2

方がん紙を使って垂直な直線をかきます。



点アを<sup>すいちよく</sup>通って直線㉑に垂直。 点イを<sup>すいちよく</sup>通って直線㉓に垂直。