



小 / 算数 / 4年 / 図形 /
垂直と平行 / 理解シート

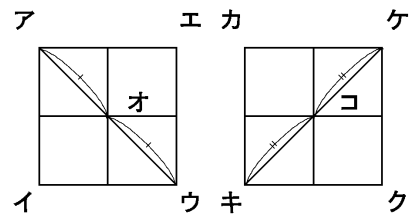
方がん紙を使った，平行な直線のみつけ方を教えて



ポイント▶ 方がん紙の1ますは，正方形。

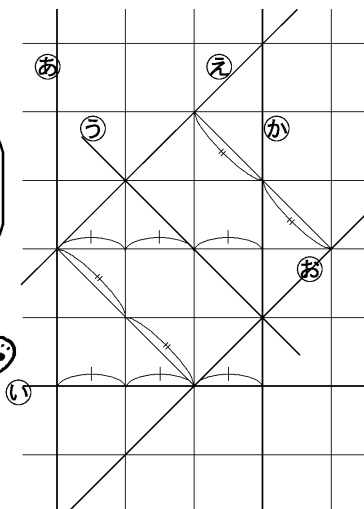
直線アオと直線ウオ } 同じ長さ
直線キコと直線ケコ }

上のきまりを使って、はばが同じところを見つけよう。



1

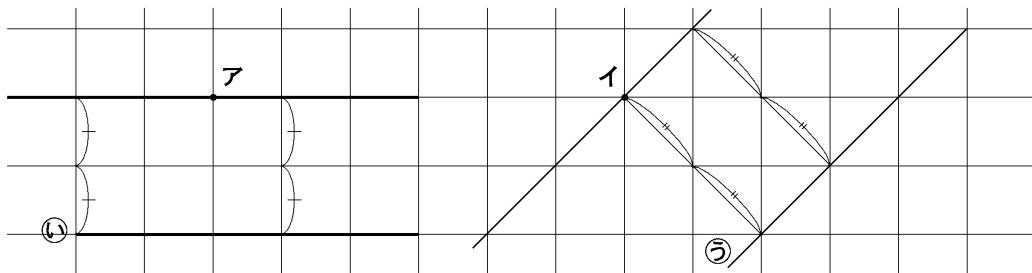
平行な直線の組をみつけます。



- 直線あと直線か
※2本の直線は直線い に垂直に交わります。
2本の直線の間のはばはどこも同じです。
- 直線えと直線お
※2本の直線は直線う に垂直に交わります。
2本の直線の間のはばはどこも同じです。

2

方がん紙を使って平行な直線をかきます。



点アを通過して直線い に平行。 点イを通過して直線う に平行。