




小 / 算数 / 1年 / 数と計算 /
10までのかず / 理解シート

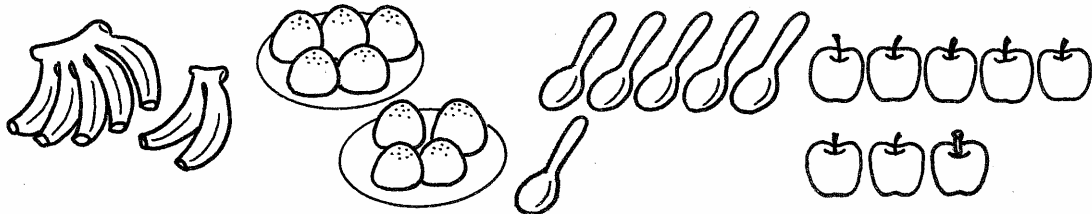
「しち」って、どんな かずなの



しち ……  …… 7 だよ。

1

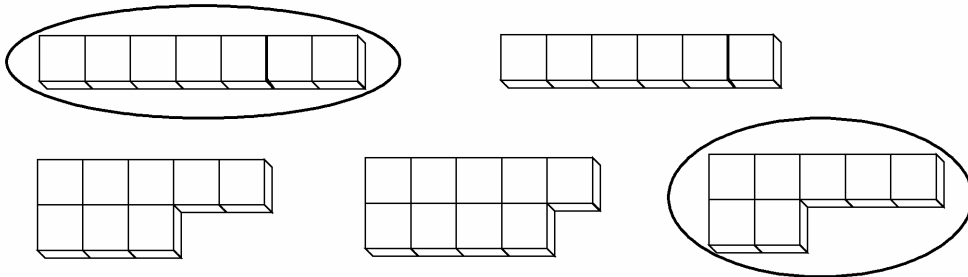
つみきブロックと おなじだけ ある ものは、どれかな。



ばなな
・バナナです。

2

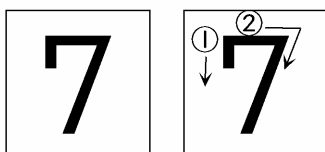
「しち」の あつまりを、○で かこみましょう。



・5の かたまりと 2は、「しち」です。

3

「しち」を、なぞってみましょう。



7は、おなじものが
7こ あるね。



【おうちの方へ】・数のことば・数の具体的意味・数字の関係をはつきりつかませましょう。
・「しち」と言いながら、7をなぞらせてください。