




小 / 算数 / 1年 / 数と計算 /
10までのかず / 理解シート

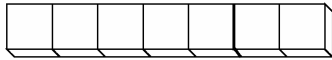
8と7で、どちらが おおいかは、どうやって しらべるの



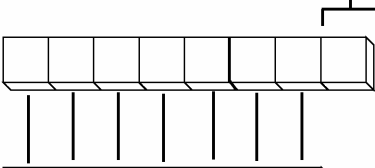

ぶろっくをおもいだして、くらべるといいよ。

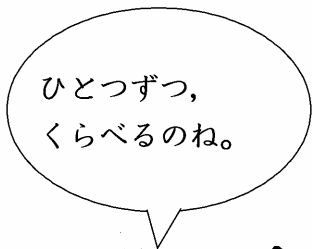
1 8と7を、ブロックにおきかえてみましょう。

・8は、です。

・7は、です。

2 8と7をせんでつないで、くらべてみましょう。

・8 ⇒ です。
 ・このぶん おおい。
 ・7 ⇒ です。



- ・8が おおい。
- ・7が すくない。

〔おうちの方へ〕

- ・線でつないで1対1に対応させると、多い少ないがわかります。
- ・線でつないで、余りがでた方が多いことがわかります。
- ・学習を重ねて、数のイメージが形成された後は、数字だけで直接、大小や、多い少ないを判定してもかまいません。