



小 / 算数 / 1年 / 数と計算 / ひきざん(1) / 理解シート


「でていくと、のこりは いくつ」って、どのような ことなの



でていって いなくなって、のこる ものの かずは、いくつに なるか ということだよ。

1

3だい でていくと、のこりは なんだいに なるか、かんがえましょう。




「でていく」ということは、とって なくなると、かんがえるのね。

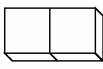
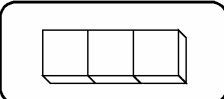



2

くるまを、^{ぶろっく}ブロックに おきかえて、かんがえましょう。

・くるま 5だいは、ブロック  こに なります。


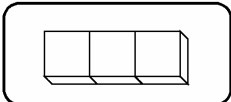

・「くるま 3だい でていく」というのは、

・   → 3とると、  こに なります。

・くるまは、2だいです。

3

しきを つかって、かんがえてみましょう。

  → 3とると、  になることを、

$5 - 3 = 2$ と、あらわします。

「ご ひく さん は に」と、よみます。

- 【おうちの方へ】
- ・あるものの集まりからあるものの集まりをひくときのことばに、「すくう」「たべる」「かえる」「でていく」「あげる」などがあります。
 - ・あるものの集まりからあるものの集まりをひく表現をわかりやすくするために、「-」「=」の記号が使われることを、知らせてください。