



小 / 算数 / 1年 / 数と計算 /
ひきざん(1) / 理解シート

「ひきざん」って、どのような ことなの



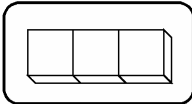
のこりの かずを かんがえる けいさんを、
「ひきざん」と いうんだよ。

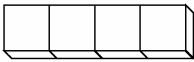



したの ひきざんを、かんがえましょう。

● 4 - 3

・うえの けいさんは、4から 3を ひいた、のこりの かずです。

・ 4 ⇒  → 3 を ひきます。
 ・のこりの かず

・  から、3 を ひいた のこりは、 です。

・この かんけいを、あたまの なかで おもいうかべます。

・ $4 - 3 = 1$ です。
 もとの かず ひく かず のこりの かず

けいさんに
なれたら、
ブロックは、
つかわなくて
いいんだね。



【おうちの方へ】 ・ = の記号を書いてから、答えを書くように指導しましょう。

・ 2つのものの集まりのちがいの数の表現をわかりやすくするために、「-」「=」の記号が使われることを、理解させてください。