



小 / 算数 / 1年 / 数と計算 / ひきざん(1) / 理解シート


「ちがいは いくつ」って、どのような ことなの



おおいほうの こすうから、すくないほうを とった、のこりの かずを かんがえるよ。

1

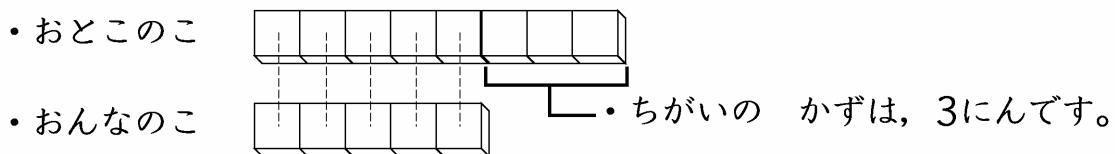
どちらが おおいか、かんがえましょう。



2

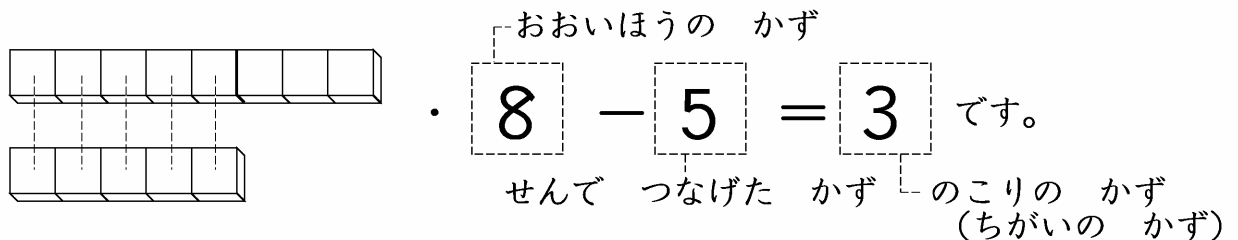
おとこのこは、おんなのこより なんにん おおいか、かんがえましょう。

- ・にんずうを、ブロックに おきかえて、かんがえてみましょう。
- ・おとこのこは、8にん います。ブロックは、8こに なります。
- ・おんなのこは、5にん います。ブロックは、5こに なります。



3

しきを つかって、かんがえてみましょう。



- 〔おうちの方へ〕
- ・多い方の数から、1対1に対応させた数(線でつなげた数)をひいた残りの数(ちがいの数)を求める計算を、理解させます。
 - ・2つのものの集まりのちがいの数の表現をわかりやすくするために、「-」「=」の記号が使われることを、理解させてください。