



小 / 算数 / 1年 / 数と計算 / ひきざん(1) / 理解シート

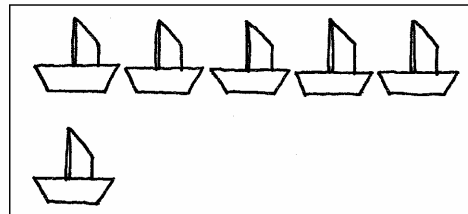

「いくつ おおい」は、どのように かんがえるの



おおいほうの こすうから、すくないほうを とった、のこりの かずを かんがえるよ。

1

つるは、ふねより いくつ おおいか、かんがえましょう。



2

つると ふねを、ぶろっくにおきかえて、かんがえましょう。

- ・つるは、9こ あります。ブロックは、9こに なります。
- ・ふねは、6こ あります。ブロックは、6こに なります。

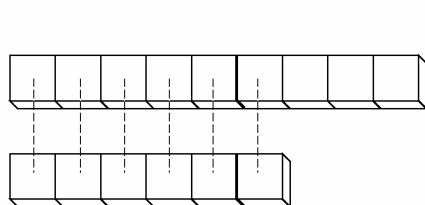


・のこりの かずは、3こです。

ひとつずつ
くみにして、
くらべるのね。

3

しきを つかって、かんがえてみましょう。



おおいほうの かず

$$9 - 6 = 3 \text{ です。}$$

せんで つなげた かず のこりの かず
(ちがいの かず)



- 【おうちの方へ】
- ・多い方の数から、1対1に対応させた数(線でつなげた数)をひいた残りの数(ちがいの数)を求める計算を、理解させます。
 - ・2つのものの集まりのちがいの数の表現をわかりやすくするために、「-」「=」の記号が使われることを、理解させてください。