



小 / 算数 / 1年 / 数と計算 / ひきざん(1) / 理解シート


## 「ちがいは いくつ」は、どのように かんがえるの



おおいほうの こすうから、すくないほうを とった、のこりの かずを かんがえるよ。

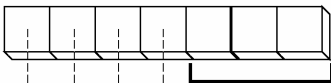

1

りすと うさぎの かずの ちがいを、かんがえましょう。



2

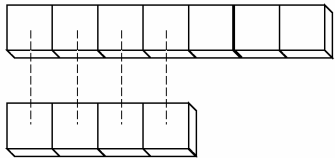
りすと うさぎを、<sup>ぶろっく</sup>ブロックに おきかえて、かんがえましょう。

- ・りすは、7ひき います。ブロックは、7こに なります。
- ・うさぎは、4ひき います。ブロックは、4こに なります。
- ・りす 
- ・うさぎ  ・ちがいの かずは、3こです。

ひとつずつ  
くみにして、  
くらべるんだね。

3

しきを つかって、かんがえてみましょう。



$$\cdot \overset{\text{おおいほうの かず}}{\boxed{7}} - \overset{\text{すくないほうの かず}}{\boxed{4}} = \boxed{3} \text{ です。}$$

せんで つなげた かず
のこりの かず (ちがいの かず)



- 【おうちの方へ】
- ・多い方の数から、1対1に対応させた数(線でつなげた数)をひいた残りの数(ちがいの数)を求める計算を、理解させます。
  - ・2つのものの集まりのちがいの数の表現をわかりやすくするために、「-」「=」の記号が使われることを、理解させてください。