




小 / 算数 / 1年 / 数と計算 /
20までのかず / 理解シート

20は、どのような かずなの

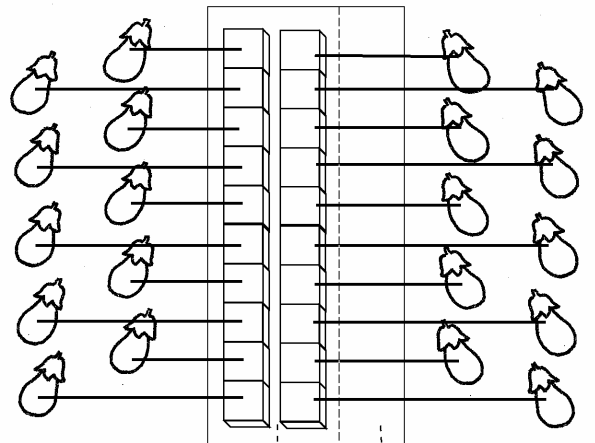


10の まとまりの ^{ぶろっく} ブロックが 2こと、
1の ブロックが ない かずだよ。

1 なすを、10と 1の
かずに、わけてみましょう。

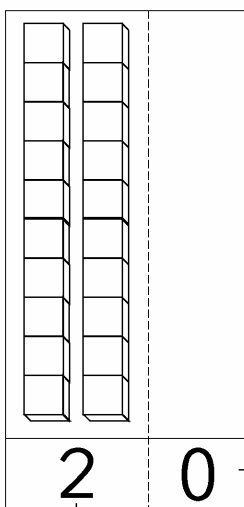


2 なすを、ブロックに
おきかえましょう。



・10の まとまりの.....
ブロックは、2こです。 ・1の ^{れい} ブロックは、
0こです。

3 かずで、あらわしてみましょう。



20は、10を 2こ あわせた
かずだね。



..... ・1の ^{れい} ブロックの かずは、0こです。
..... ・10の まとまりの ブロックは、2こです。