



小 / 算数 / 1年 / 数と計算 /  
3つのかずのけいさん / 理解シート


「3つの かずの たしざん」って、どのような ことなの




3つの かずを、じゅんに たす けいさんの ことだよ。

1


したの おはなしの、ことりの かずを、かんがえてみましょう。



・4わの ことりが、  
います。




・2わの ことりが、  
やってきました。



・また、3わの ことりが、  
やってきました。

2

ことりの かずは、ぜんぶで なんわになったか、かんがえましょう。



・ことりの かずは、9わです。

まえから じゅんに、  
けいさんすれば  
いいんだよ。



3

おはなしを、しきで あらわしてみましょう。

・はじめに いた、4わの ことり  
 ・やってきました、2わの ことり  
 ・また、やってきました 3わの ことり  

$$\boxed{4} + \boxed{2} + \boxed{3} = \boxed{9}$$
 ・ぜんぶの ことり

・ $4+2=6$ 、 $6+3=9$ に なります。

【おうちの方へ】 ・3つの数の計算の式を使うと、1つの式で簡潔に表すことができることや、お話がそのまま式になることに気づかせます。