



小 / 算数 / 1年 / 数と計算 /
3つのかずのけいさん / 理解シート


「3つの かずの ひきざん」って、どのような ことなの




あるかずから、2つの かずを じゅんに ひく、けいさんの ことだよ。

1


したの おはなしの、ことりの かずを、かんがえてみましょう。



・7わの ことりが、
います。




・1わの ことりが、
とんでいきました。



・また、3わの ことりが、
とんでいきました。

2

ことりの かずは、ぜんぶで なんわになったか、かんがえましょう。

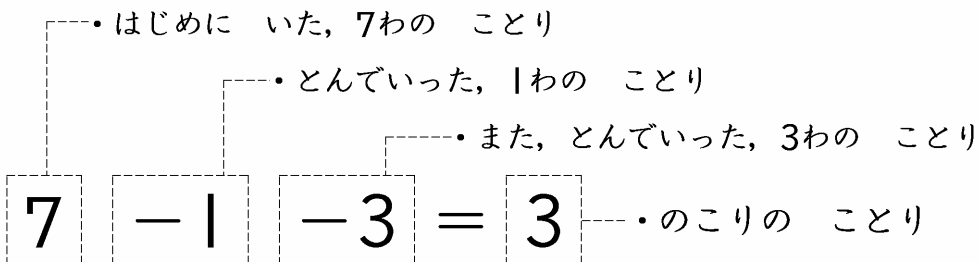


・ことりの かずは、3わです。

まえから じゅんに、
けいさんすれば
いいんだよ。

3

おはなしを、しきで あらわしてみましょう。



・ $7 - 1 = 6$, $6 - 3 = 3$ に なります。

【おうちの方へ】 ・3つの数の計算の式を使うと、1つの式で簡潔に表すことができることや、お話がそのまま式になることに気づかせます。

