



小 / 算数 / 1年 / 数と計算 /
3つのかずのけいさん / 理解シート


「3つの かずの たしざん ひきざん」って、
どのような ことなの




3つの かずを、たしたり ひいたりする、けいさんの ことだよ。

1


したの おはなしの、ことりの かずを、かんがえてみましょう。



・7わの ことりが、
います。




・4わの ことりが、
とんでいきました。



・6わの ことりが、
とんできました。

2

ことりの かずは、ぜんぶで なんわになったか、かんがえましょう。

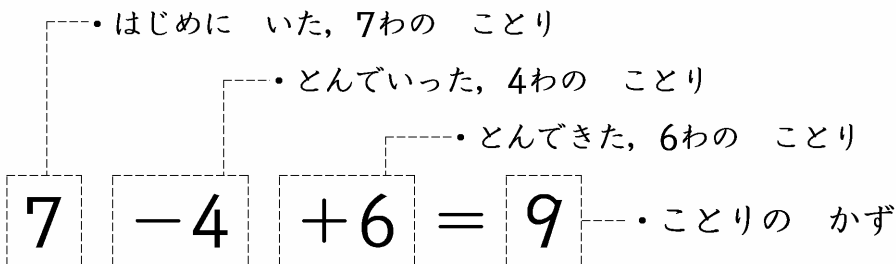


・ことりの かずは、9わです。

まえから じゅんに、
けいさんすれば
いいんだよ。

3

おはなしを、しきで あらわしてみましょう。



・ $7 - 4 = 3$, $3 + 6 = 9$ に なります。

【おうちの方へ】 ・3つの数の計算の式を使うと、1つの式で簡潔に表すことができることや、お話がそのまま式になることに気づかせます。

