



小 / 算数 / 1年 / 数と計算 / ひきざん(2) / 理解シート


13から 8を ひく けいさんは、どのように かんがえるの




10の まとまりから 8を とって、のこりと 3を あわせるよ。

1

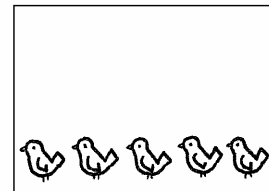
したの おはなしで、かんがえてみましょう。



・13わの ことりが、
います。



・8わの ことりが、
とんでいきました。

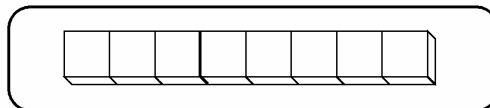
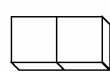


・のこりは、5わに
なりました。

2

ことりを、^{ぶろっく}ブロックに おきかえて、かんがえてみましょう。

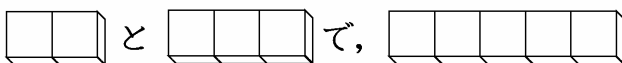
・13わの
ことり



・10の あつまりの
ブロックから、
8こ とると、
のこりは、2こです。

3

のこりの 2こと、3こを あわせた かずを、
かんがえましょう。



・2こと 3こで、5こです。
・ことりは、5わです。

10は、
いくつと いくつの
かんがえかたを、
つかうんだよ

4

しきで、かんがえてみましょう。

$$13 - 8 = 5 \text{ に なります。}$$

