



小 / 算数 / 1年 / 数と計算 / ひきざん(2) / 理解シート

11 - 4の けいさんは、どのように かんがえるの

(11の, 10から 4を ひく ほうほう)

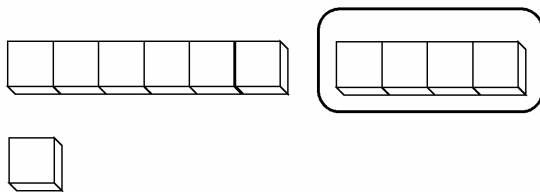


11は、10と 1だよ。10から 4を ひいて 6。
6と 1を たして 7と、かんがえると いいよ。

1

11-4を、^{ぶろっく}ブロックで かんがえてみましょう。

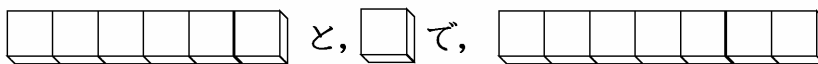
・1の ブロックが、11こ あります。



・10この まどまりの ブロックから、
4こ とると、のこりは 6こです。

2

のこりの、6こと 1こを あわせた かずを、
かんがえましょう。

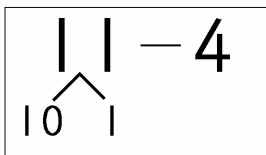


・6こと 1こで、7こです。

10は、いくつと いくつを、
つかうんですね。

3

11-4を、しきで かんがえてみましょう。



- ① 1から 4は、ひけません。
- ② 11を、10と 1に わけます。
- ③ 10から 4を ひいて、6です。
- ④ 6と 1で、7です。



$$11 - 4 = 7$$

- [おうちの方へ] ・繰り下がりのあるひき算は、ひかれる数が、「10といくつ」になるか考えることから始めます。
- ・10から4をひくことは、「10は、いくつといくつ」を応用することによって解決できます。
 - ・12-4, 13-4は、11-4と、同じなかまの計算です。