



小 / 算数 / 1年 / 数と計算 /
おおきなかず / 理解シート

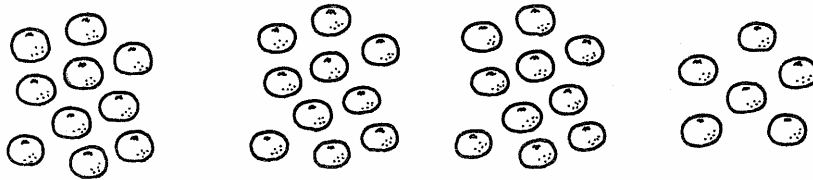
20より おおきい かずは、どのように あらわすの



10の まとまりと ばらの かずで、あらわすんだよ。

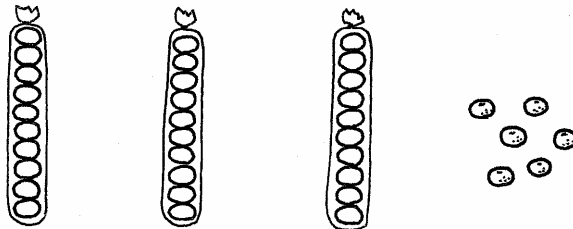
1

みかんの かずは いくつあるか、かんがえましょう。



2

10こずつ、あみの ふくろに いれてみましょう。

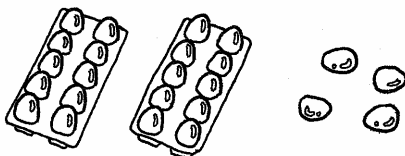


はじめに、
10の まとまりを、
かんがえるんだよ。

- ・みかんの かずは、10この まとまりが 3ふくろと、ばらの みかんが 6こです。
- ・10が 3こと、1が 6この かずを、「さんじゅうろく」と いいます。

3

たまごの かずを、かんがえましょう。



- ・たまごは、10の まとまりが 2こと、ばらが 4こです。
- ・10が 2こと、1が 4この かずを、「にじゅうし」と いいます。

〔おうちの方へ〕 ・1年生では、十進数の一の位と十の位の勉強をします。
・ものの数を10の集まりに着眼して、十進数に気づかせます。