



小 / 算数 / 1年 / 数と計算 /
おおきなかず / 理解シート

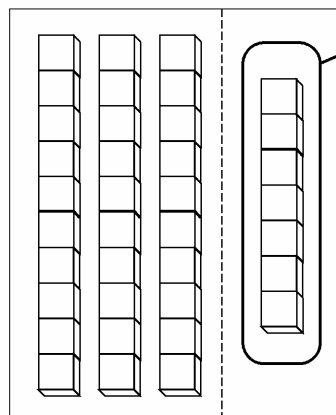
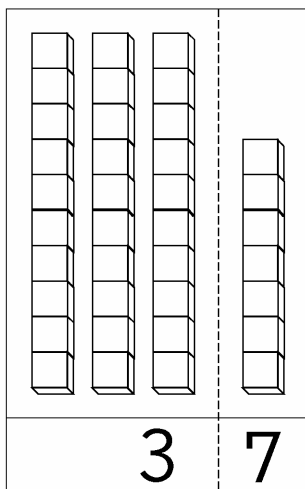
37 - 7の けいさんは、どのように かんがえるの



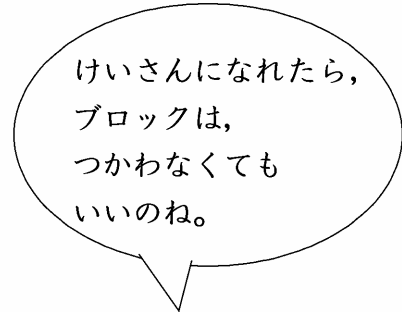
^{じゅう}十のくらのいのかずは そのままで、^{いち}一のくらのいのかずから
一のくらのいのかずを、ひけば いいんだよ。

1 かずを ^{ぶろっく}ブロックに おきかえて、かんがえてみましょう。

$$37 - 7$$



・とります。



けいさんになれたら、
ブロックは、
つかわなくても
いいのね。



- ・37は、10の まとまりの ブロックが 3こと、
1の ブロックが 7こ あります。
- ・7この ブロックから 7こ とると、のこりは 0こです。
- ・のこり ぜんたいの ブロックは、10が 3こで、30こです。

2 37-7を、しきで かんがえてみましょう。

$$37 - 7 = 30$$

- ① 7から 7を ひいて、0です。
- ② 10の まとまりの ブロックは
3こで、そのままだから、30です。

[おうちの方へ] ・ひかれる数の一の位の数から、ひく数の一の位の数ひきます。
・残りの数と、十の位の数とあわせませす。