



小 / 算数 / 1年 / 量と測定 /  
なんじなんじはん / 理解シート

とけいの じかんは、どのような やくそくに なっているの




みじかいはりの さす すうじが、「なんじ」を あらわして  
いるんだよ。

1

とけいを しらべてみましょう。


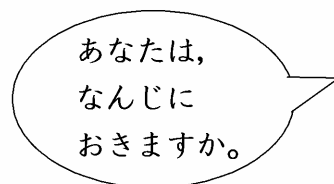
- ・とけいには、1, 2, 3, 4, 5, 6, 7,  
8, 9, 10, 11, 12の、すうじが  
あります。
- ・ながいはりと、みじかいはりが あります。
- ・はりは、みぎまわりに まわります。
- ・ながいはりが ぴったり 12を  
さしているときに、みじかいはりの さす  
すうじが、そのときの 「なんじ」です。



2

とけいの 「なんじ」を、よみましょう。

- ・ながいはりは、ぴったり 12のところに  
あります。
- ・みじかいはりは、7の ところに あります。
- ・とけいは、7じです。



- 〔おうちの方へ〕
- ・入門期の時計の学習では、「〇時」「〇時半」の学習をします。
  - ・短針や長針の位置のちがいによって、時刻がちがってくることに気づかせます。
  - ・「朝起きるのは、6時」「朝食は7時」「昼食は12時」など、実際の生活の時間を通して、時計を見る習慣をつけましょう。