



小 / 算数 / 1年 / 量と測定 /
どちらがおおい / 理解シート

どれだけ おおく はいるか、どうやって しらべるの



おなじ いれもので、なんばいぶんか、しらべると いいよ。


1

したの、2この すいとうで、かんがえてみましょう。

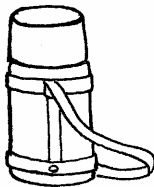
・どちらに どれだけ おおく、みずが はいりますか。



▲すいとう1



コップ 6はい




▲すいとう2



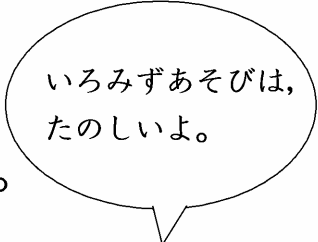
コップ 8はい

2

コップの かずから、かんがえてみましょう。



・コップ 2はい



- ・8はいのほうが、2はいぶん おおいことが わかります。
- ・すいとう2は、コップ 2はいぶん、みずが おおく はいります。

【おうちの方へ】 ・このような問題は、暖かい季節に、色水遊びや水遊びを通して、体験から理解したいものです。
・海水浴などの折りに、ぜひ、体験させましょう。