



小 / 算数 / 1年 / 量と測定 /  
なんじなんぶん / 理解シート

とけいの すうじは、どのような やくそくに なっているの




とけいの すうじは、5とびの かずの めもりに なっているよ。

1

とけいを しらべてみましょう。

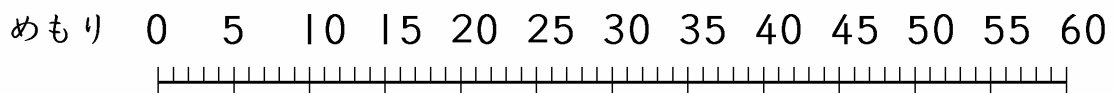
- ・12のところが、ながいはりの <sup>すたーと</sup>スタートです。
- ・とけいには、1, 2, 3, 4, 5, 6, 7, 8, 9, 10, 11, 12の、すうじが あります。
- ・すうじと すうじの あいだは、5つに わけられています。



2

5とびの かずを、かんがえてみましょう。


- ・5とびの かずは、したの かずのせんのように なっています。



すうじ 12 1 2 3 4 5 6 7 8 9 10 11 12

3

5とびの かずを、とけいに あてはめてみましょう。



- ・12のところは、スタートで 0です。
- ・1のところまでは、5めもり あります。
- ・2のところまでは、10めもり あります。
- ・3のところまでは、15めもり あります。
- ・4のところまでは、20めもり あります。
- .....
- ・12のところまでは、60めもり あります。

〔おうちの方へ〕 ・文字盤の数字は、時と分で読み分ける必要があるために、時刻を読み取るのは、1年生にとって大変難しいことです。