

小 / 算数 / 1年 / 量と測定 /
なんじなんぶん / 理解シート

とけいの なんぶんは、どのように よめば いいの




ながいはりの さしている ところを、よみとれば いいんだよ。

1

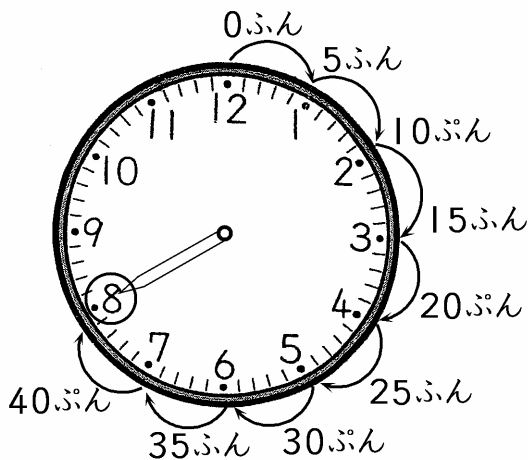
とけいを しらべてみましょう。

- ・とけいの めもりは、みぎの ずのように なっています。
- ・12のところが すたーと スタートです。
- ・はじめの 12のところは、0ふんです。
- ・1のところまで 5めもりで、5ふんです。
- ・2のところまで 10めもりで、10ふんです。
- ・3のところまで 15めもりで、15ふんです。
- ・4のところまで 20めもりで、20ふんです。
-
- ・1まわりした、12のところまで 60めもりで、60ふんです。




2

ながいはりのところを、よんでみましょう。



- ・ながいはりは 8で、40めもりのところです。
- ・8は、40ふんです。

すうじと すうじの あいだは、5ふんなのね。



【おうちの方へ】 ・時刻の分を読み取る時には、文字盤の数字を1から60の「かずのせん」に置きかえて読みます。

・これらのことから、時刻の読み取りは、1年生にとって大変難しいことです。