

小 / 算数 / 1年 / 量と測定 /  
なんじなんぶん / 理解シート

2じ18ふんのながいはりは、どうやって きめれば いいの




1は 5ふん、2は 10ふん、3は 15ふんと かんがえて、  
きめれば いいよ。

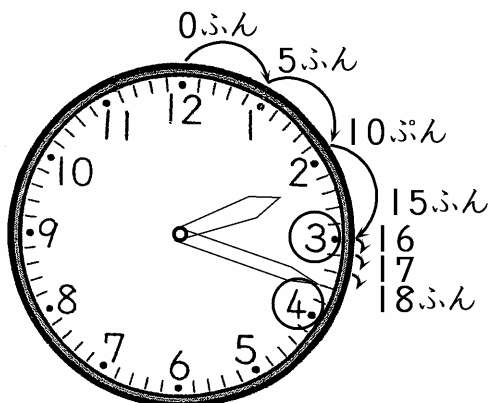


とけいの すうじと、なんぶんの かんけいを、  
かんがえましょう。

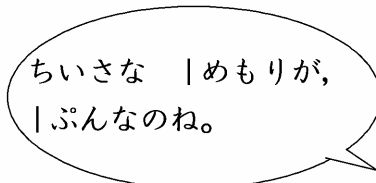
- ・とけいの すうじは、したのような  
じかんを あらわしています。
- ・12のところが <sup>すたーと</sup> スタートです。
- ・はじめの 12のところは、0ふんです。
- ・1のところまで 5めもりで、5ふんです。
- ・2のところまで 10めもりで、10ふんです。
- ・3のところまで 15めもりで、15ふんです。
- ・4のところまで 20めもりで、20ふんです。
- .....
- ・1まわりした、12のところまで 60めもりで、  
60ふんです。



2 ながいはりを、18ふんの ところに かきましょう。



- ・3のところは、15ふんです。
- ・18ふんは、3から 4に むかって  
3めもりのところ です。



ちいさな 1めもりが、  
1ふんなのね。



〔おうちの方へ〕 ・時刻の時は、文字盤の数をそのまま使います。  
・時刻の分は、文字盤の数を、1から60の「かずのせん」に置きかえます。