


小 / 算数 / 2年 / 数と計算 /  
2. たし算とひき算のあん算 / 理解シート

19 + 4の <sup>ざん</sup>あん算は、どうすれば いいの

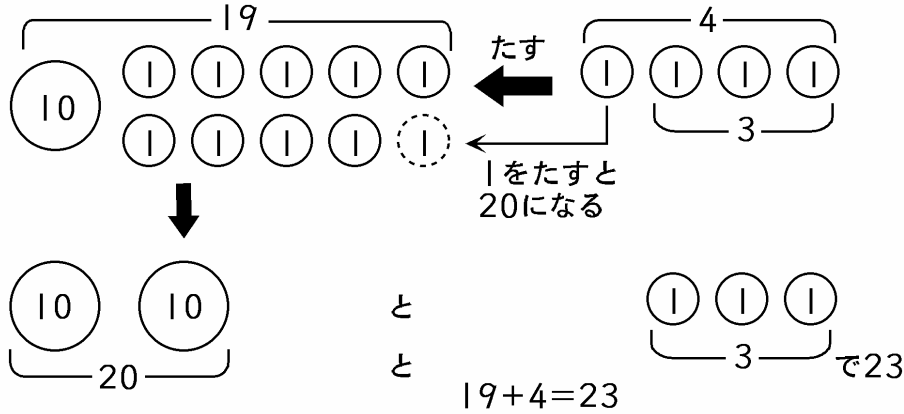


19に いくつを たすと、20に なるかを <sup>かんが</sup>考えることがポイントだよ。19に 1をたすと、20に なるね。そのとき、4を 1と 3に <sup>わ</sup>分けることもポイントだよ。



19+4の あん算を してみます。

① 図に <sup>ず</sup>かいて、あん算の <sup>かんが</sup>しかたを 考えます。



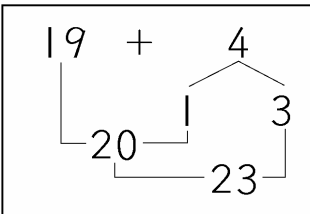
**ポイント**▶ 19に いくつを たすと、20に なるかを 考えることです。

- ㊦ 19に 1を たすと 20です。
- ① そのとき、4を 1と 3に 分けます。
  - ・ 19と 1で 20。4を 1と 3に 分ける。
  - ・ 20 と 3で 23。  $19+4=23$

4を 1と 3に 分けることもポイントになるんだよ。



おぼえて  
おこう



〔おうちの方へ〕 19+4=23のような、一の位がくり上がる暗算です。19+4は、20をつくります。19と1で20です。4を1と3に分けます。20と残りの3で、答えを23とします。