


小 / 算数 / 2年 / 数と計算 /
5 . たし算・ひき算のもんだい / 理解シート

すく ほう にんずう とき方 おし
少ない 方の 人数を もとめる もんだいの とき方を 教えて




おお 多い 方の 人数が わかっていて、^{なんにん}「何人 少ない」から、少
ない 方の 人数を もとめる もんだいだよ。



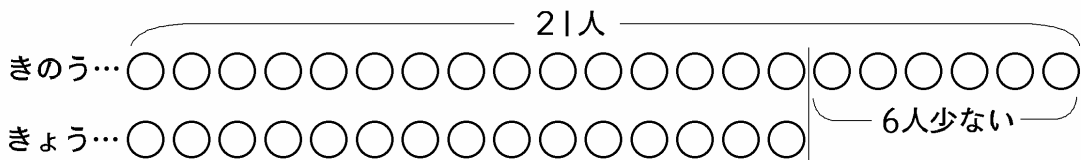
下の もんだいを といてみます。

きのう ^{がっこう}学校で 21人 休みました。きょう 休んだ 人は、きの
うより、6人 少ないそうです。きょう 休んだ人は 何人ですか。

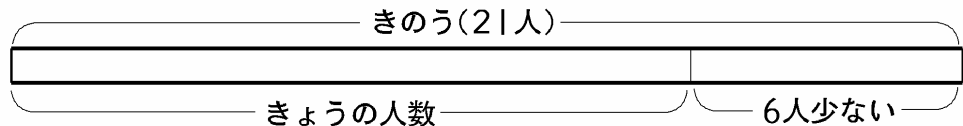


上の もんだいのように、文で かかれた もんだいは、^ず図に かくと
どんな しきで もとめれば よいか ^ずわかりやすくなり ます。く
わしい ^ず図では なくて かんたんな ^ず図で いいのです。

〔くわしい図〕



〔かんたんな図〕



- 「きょう 休んだ 人は、きのう 休んだ 人より 6人 少ない」
と いうことは、きょう 休んだ 人は、きのう 休んだ 人の、
21人より 6人 少ないこと になります。きょう 休んだ 人は、
21人から 6人を ひいた 人数 になり、^{さん}ひき算で もとめられます。

しき... $21 - 6 = 15$ ^{こた} 答え... 15人

〔おうちの方へ〕 少ない方の数量を求める(求小)の問題です。きょうの人数は、きのうの21人より6人少ないこと になります。