


小 / 算数 / 2年 / 数と計算  
13. かけ算 / 理解シート

## ぜんぶの かさを もとめる もんだいの とき方は？



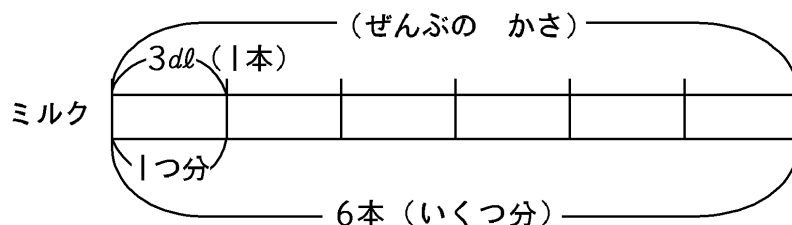
まず、もんだい文を <sup>よ</sup>読んで、1つ分の <sup>ぶん</sup>数と <sup>かず</sup>いくつ分を みつけて、(1つ分の 数) × (いくつ分) = (答え) の <sup>こた</sup>しきで とくんだよ。



下の もんだいを といて みます。

1本が 3dl入りの ミルクが 6本 あります。ミルクは ぜんぶで 何dl ありますか。

**考え方**▶ 上のことを 図に かいて とき方を <sup>かんが</sup>考えます。




**とき方**▶ 上の 図から、1本が 3dlだから、1つ分は 3dlです。6本だから  
いくつ分は 6本です。

上で わかった 1つ分の 数と <sup>さん</sup>いくつ分で、かけ算の <sup>さん</sup>しきをつくりま

$$\begin{array}{l} \text{しき} \dots \quad (1\text{つ分}) \times (\text{いくつ分}) \quad (\text{答え}) \\ \quad \quad \quad 3 \quad \times \quad 6 \quad = \quad 18 \end{array}$$

しきは  $6 \times 3 = 18$ と しては いけないよ。気をつけてね。



答え... 18dl

〔おうちの方へ〕 かけ算の文章題です。重要なことは、問題文から、1つ分の量・いくつ分を読み取ることです。(1つ分) × (いくつ分)の式になります。