


小 / 算数 / 2年 / 図形
12 . 三角形と四角形 / 理解シート

てん ちよくせん し かくけい おし
点を 直線で つないで 四角形を かく かき方を 教えて



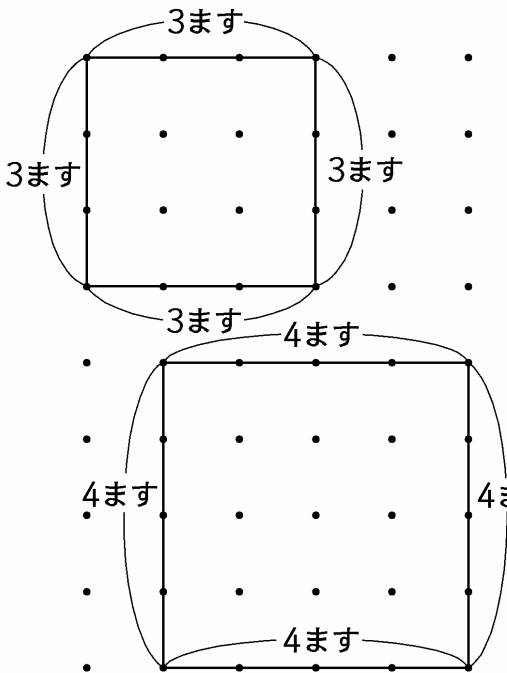
せいほうけい ちよっかく
正方形は、4つの かが 直角で 4本の へんの
なが おな ちようほうけい
長さが 同じなんだよ。長方形は 4つの かが 直
角で むかいあった へんの 長さは 同じなんだよ。



点を 直線で つないで 正方形や 長方形を かきます。

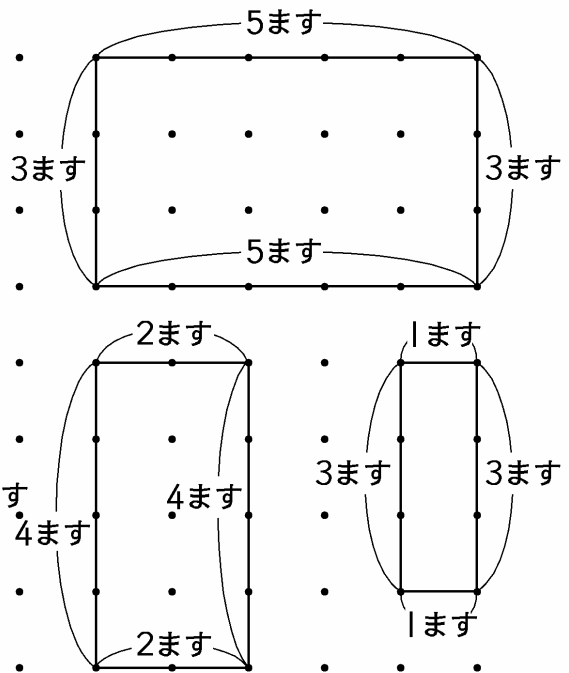
① 正方形を かきます。

4本の へんが 同じ 長さの
四角形が 正方形です。



② 長方形を かきます。

むかいあった へんが 同じ 長
さの 四角形が 長方形です。



長方形は むか
いあった ます
の 数は 同じ
に するんだよ。

