


小 / 算数 / 2年 / 図形
16 . はこの形 / 理解シート

はこの ^{かたち}形の ^{めん}面の ^{かす}形や ^{かず}数は、どうなっているの



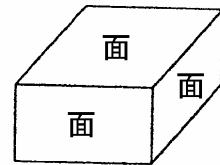
はこの形は、1年生で ^{がくしゅう}学習したから どんな形なのかは知^しっているね。はこの形で ^{たいらな}ところを「面」というんだよ。



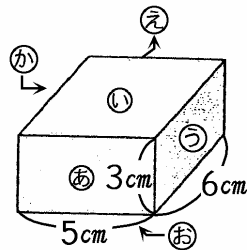
はこの形の面の形や数をしらべます。

① 面についてしらべます。

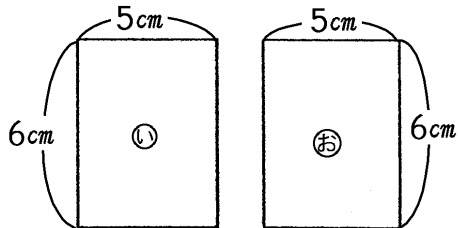
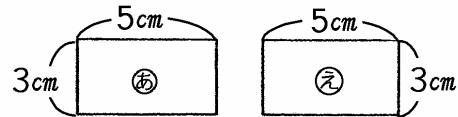
右の ^ず図の この形の ^{たいらな}ところを、「面」といいます。



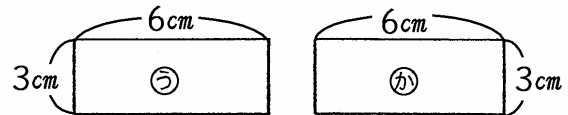
② はこの形の面の形や数についてしらべます。



かみ紙にうつしとる。



㊦ 紙にうつしとった図の形は ^{ちやうほうけい}長^{ちやうほうけい}方形です。



① 面の数は、6こで、^{おな}同じ大きさは、2こずつあります。

〔おうちの方へ〕 はこの形(直方体)の面の形や数について学習します。面の形は長^{ちやうほうけい}方形(正方形もある)です。面の数は6個あります。