




小 / 算数 / 2年 / 図形
16. はこの形 / 理解シート

さいころの ^{かたち}形の ^{めん}面の ^{かず}形や数は、どうなっているの



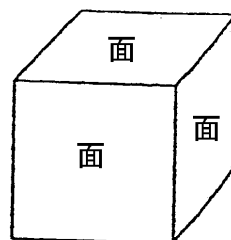
さいころの形は、1年生で ^{がくしゅう}学習したから、どんな形なのかは ^し知っているね。さいころの面の形は正方形で、数は6こだよ。



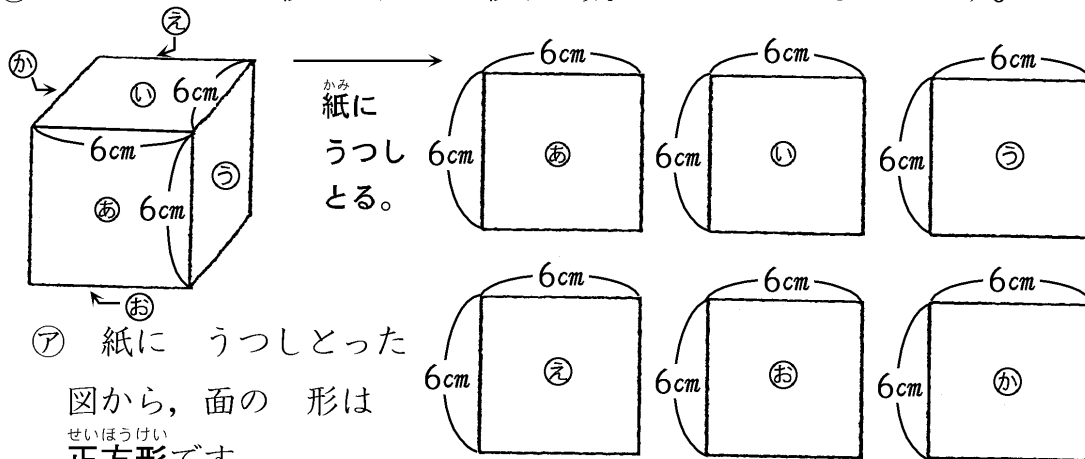
さいころの形の面の形や数をしらべます。

① 面についてしらべます。

右の ^ず図のさいころの形のたいらなところを「面」といいます。



② さいころの形の面の形や数についてしらべます。



⑦ 紙にうつしとった図から、面の形は ^{せいほうけい}正方形です。

① 面の数は、^{おな}同じ大きさで、6こあります。

〔おうちの方へ〕 さいころの形(立方体)の面の形や数について学習します。面の形は正方形です。面の数は同じ大きさの正方形が6こあります。