


小 / 算数 / 2年 / 図形
16 . はこの形 / 理解シート

はこの ^{かたち}形の ^{てん}ちょう点や ^{おし}へんについて **教えて**



^{さんかくけい}三角形や ^{しかくけい}四角形で、^{がくしゅう}ちょう点や ^{かす}へんについて **学習**した
ね。はこの 形にも ^{かす}ちょう点や ^{かす}へんが **ある**んだよ。



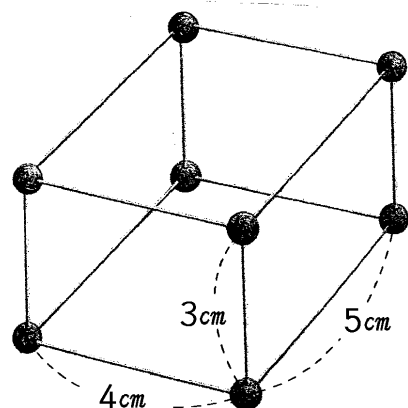
はこの 形の ^{かす}ちょう点の **数**や、^{かす}へんの **数**を **しら**べます。

① ひごと **ねん土**で **は**この 形を **つ**くります。

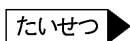
㊦ **ねん土**の **玉**は、**8こ** **つ**かっ
て **あ**ります。

① ひごは、**3cm**の ひごが **4本**、
5cmの ひごが **4本**、**4cm**の ひご
が **4本** **あ**ることが **わ**かります。

㊦ ひごは、**ぜんぶ**で **12本** **あ**ります。



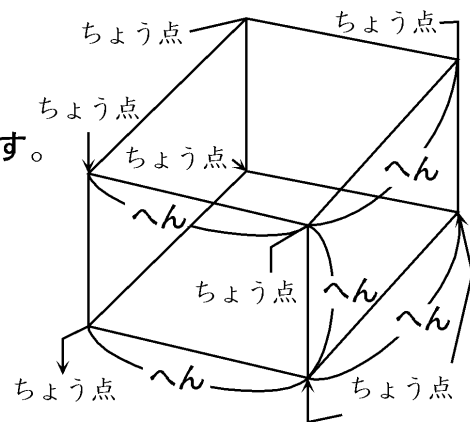
② **は**この 形の ^{かす}ちょう点や ^{かす}へんについて **しら**べます。



㊦ **は**この 形で、**上**の **ねん土**玉の
ところの **点**を「**ちょう点**」と **い**
います。**ちょう点**は **8こ** **あ**ります。

① **は**この 形で、**上**の ひごを、
「**へん**」と **い**います。

㊦ **へん**は **12本** **あ**ります。



【**おうちの方へ**】 **は**この形(直方体)の**頂点**と**辺**について**学習**します。**頂点**は**か**ど
の**点**で**8個**です。**辺**は**へり**で**12本**あります。