


小 / 算数 / 3年 / 数と計算

3 . わり算 / 理解シート

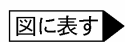
 何人かに分けたとき，1人分の数をもとめる問題のとき方を教えて
 もんだい


ぶんしょう  
文章で書かれた問題をとくには，文章で書かれていることを図にかいてみればよくわかるよ。

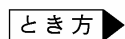
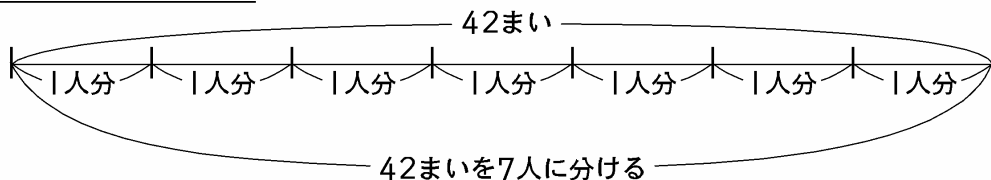


下のような問題をといてみます。

カードが42まいあります。このカードを7人で同じ数ずつ分けます。1人分は何まいになりますか。



42まい分を直線で表します。<sup>あらわ</sup>7人で分けるのですから，直線を7つに等しく分けます。



① 上の図から，1人分のまい数は，42まいを7人に分けた数になります。

② 1人分のまい数は，42を7でわればよいことがわかります。

式… $42 \div 7 = 6$       答え…6まい

答えは，6としないで，6まいと，「まい」をわすれないで。

