

小 / 算数 / 3年 / 数と計算

3. わり算 / 理解シート

何cmかずつに切ったとき，何本切れるかをもとめる^{もんだい}問題のとき方を教えて




^{ぶんしょう}文章で書かれた問題をとくには，文章で書かれていることを図にかいてみればよくわかるよ。

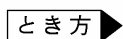
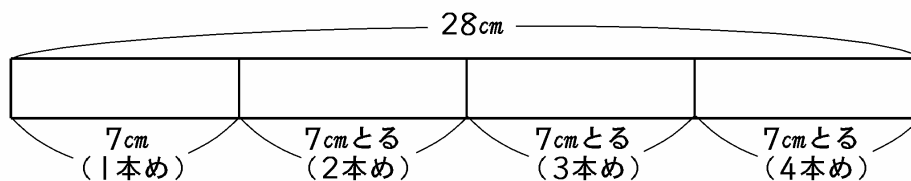


下のような問題をといてみます。

28cmのテープを7cmずつに切ると，何本になりますか。



28cmの長さを直線^{あらわ}に表します。7cmずつに切るのですから，28cmから1本分ずつとっていく図をかいてみます。



① 上の図から，何本に分けられるかは，28cmを7cmずつに分けた数になります。

② 分けられる本数は，28を7でわればよいことがわかります。

^{しき}式… $28 \div 7 = 4$ 答え…4本

長さは長さでわ
れるんだよ。答
えの本をわすれ
ないでね。

