

小 / 算数 / 3年 / 数と計算


16 . 小数 / 理解シート

## 3.1 - 1.4 などのようなひき算は、どうすればいいの

(小数のひき算)

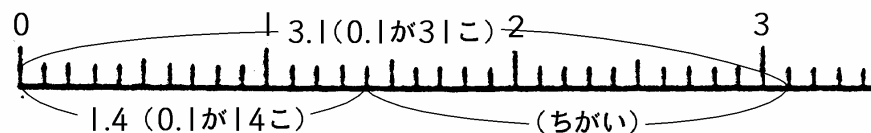


0.1 をもとにすればいいんだよ。3.1 - 1.4 が 0.1 の何こ分になっているかがわかればいいんだよ。



下のようなひき算をしてみます。

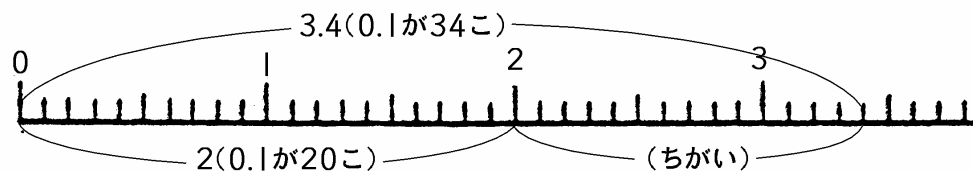
①  $3.1 - 1.4$



3.1 は 0.1 が 31 こ。1.4 は 0.1 が 14 こ。31 こと 14 このちがいが 0.1 が  $31 - 14 = 17$  で、0.1 が 17 こ。0.1 が 17 で 1.7。

$$\underline{3.1 - 1.4 = 1.7}$$

②  $3.4 - 2$



3.4 は 0.1 が 34 こ。2 は 0.1 が 20 こ。34 こと 20 このちがいが、0.1 が  $34 - 20 = 14$  で、0.1 が 14 こ。0.1 が 14 こで 1.4。

$$\underline{3.4 - 2 = 1.4}$$