

小 / 算数 / 3年 / 数と計算


16 . 小数 / 理解シート

1.5 - 0.3 などのようなひき算は、どうすればいいの

(小数のひき算)



0.1 をもとにすればいいんだよ。1.5 - 0.3 が 0.1 の何こ分になっているかがわかればいいんだよ。



下のようなひき算をしてみます。

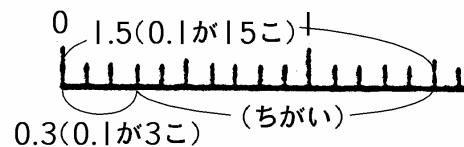
① $1.5 - 0.3$

1.5 は 0.1 が 15 こ。

0.3 は 0.1 が 3 こ。

15 こと 3 ここのちがいが、0.1 が $15 - 3 = 12$ で、0.1 が 12 こ。

0.1 が 12 こで 1.2。 $1.5 - 0.3 = 1.2$



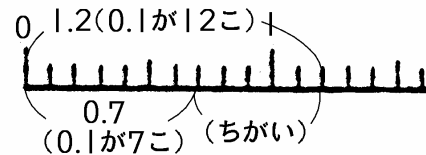
② $1.2 - 0.7$

1.2 は 0.1 が 12 こ。

0.7 は 0.1 が 7 こ。

12 こと 7 ここのちがいが、0.1 が $12 - 7 = 5$ で、0.1 が 5 こ。

0.1 が 5 こで 0.5。 $1.2 - 0.7 = 0.5$



③ $1 - 0.3$

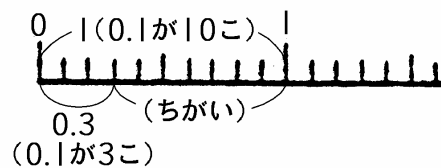
1 は 0.1 が 10 こ。

0.3 は 0.1 が 3 こ。

10 こと 3 ここのちがいが、0.1 が $10 - 3 = 7$ で、0.1 が 7 こ。

0.1 が 7 こで 0.7。

$1 - 0.3 = 0.7$



小数のたし算・ひき算は、もうみんなはだいじょうぶだね。

