


小 / 算数 / 3年 / 図形

13 . 三角形 / 理解シート

ものさしとコンパスで、^{せいさんかくけい}正三角形はどうしてかけばいいの

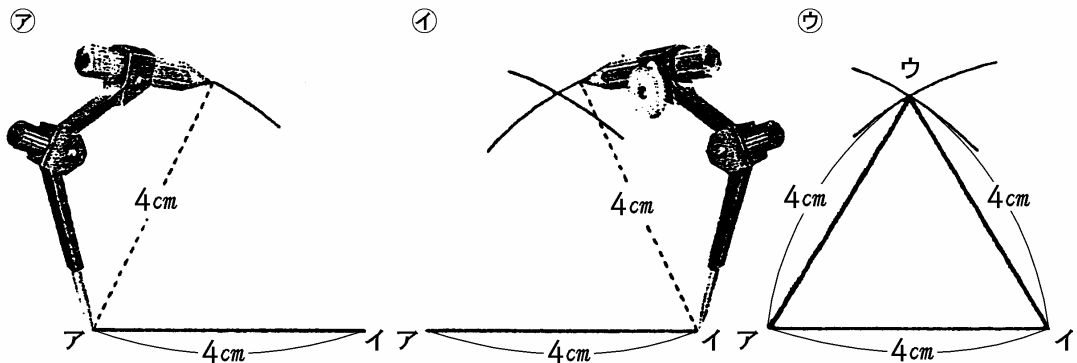
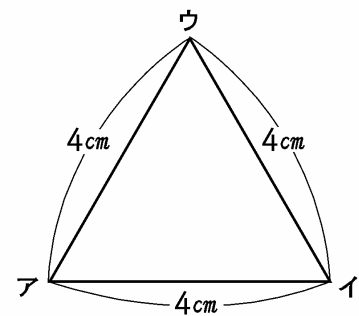


ものさしとコンパスだけで、正三角形をかくことができるんだよ。コンパスで長さをはかりとることはもう知っているよね。



下のような^{へん}辺の長さの正三角形をかいてみます。

- ◆ ものさしで、アイの辺をかきます。
その後は、下の^{つか}ように、コンパスを使って正三角形をかきます。



コンパスで4cmをはかりと 同じようにして、イから円 交った点をウとして、アと
り、アから円の^{いちぶ}一部をかく。 の一部をかく。 ウ、イとウを直線でむすぶ。