




小 / 算数 / 3年 / 数量関係

9 . 表とぼうグラフ / 理解シート

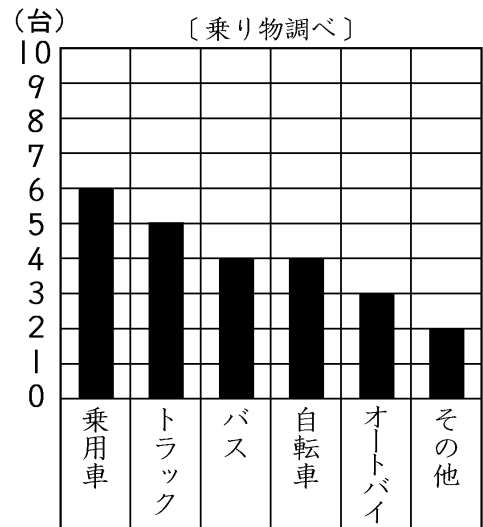
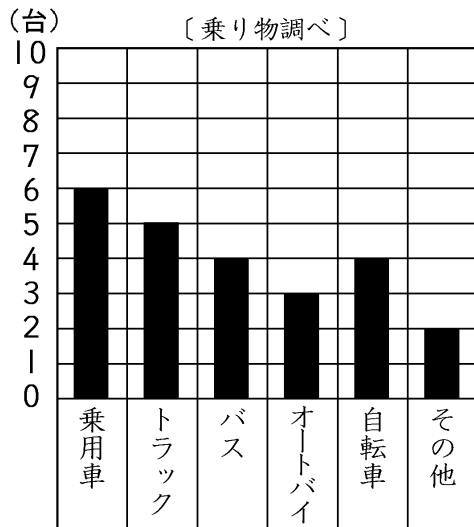
ぼうグラフで表あらわしたとき，どんなことがべんりなの



それぞれの乗り物の種類のや台数しゅるいがすぐにわかり，くらべやすくべんりなのが，ぼうグラフなんだよ。



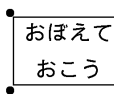
ぼうグラフがべんりなことを，下のグラフから調しらべてみます。



① 右・左のぼうグラフの|めもりは|台を表しています。それぞれの乗り物の種類しゅるいべつ別の台数つぎは，次の通りです。

- ・乗用車じょうようしゃ…6台
- ・トラック…5台
- ・バス…4台
- ・自転車…4台
- ・オートバイ…3台
- ・その他…2台

② 右のように，多い方からじゅんに，左からならべました。



ぼうグラフに表すと，数ひとめがくらべやすくなります。一目でよくわかります。

③ いちばん多いのは，乗用車です。乗用車は，オートバイの2倍ばいになっています。