

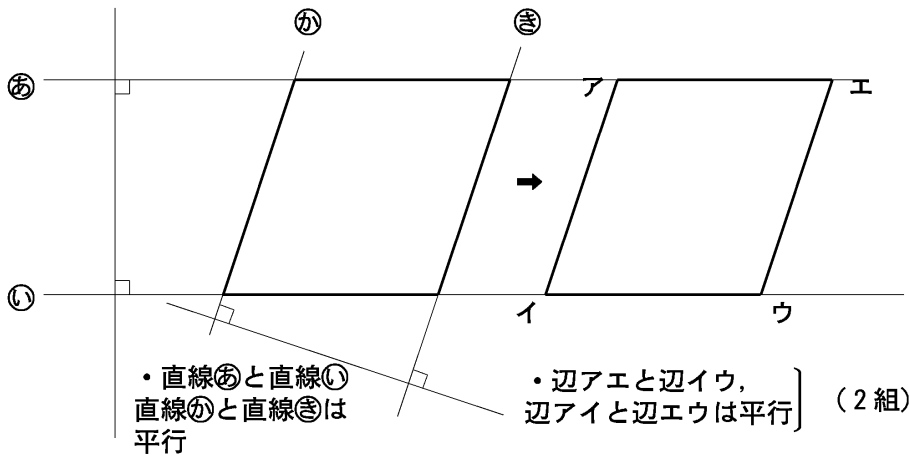


小 / 算数 / 4年 / 図形 /
四角形 / 理解シート

へいこうし へんけい 平行四角形とは、どんな四角形なの



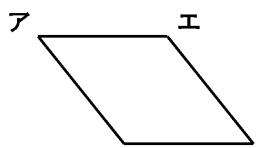
大切! 平行四角形は、向かい合った2組の^{へん}辺が平行な四角形なんだよ。



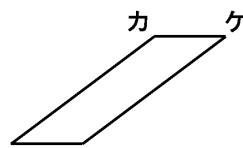
辺アエと辺イウ,
辺アイと辺エウ
が向かい合った
辺なんだよ。



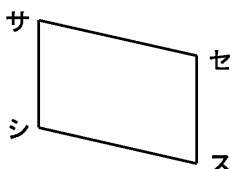
注意 下の四角形は、みんな平行四角形です。



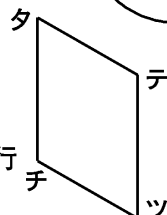
・辺アエと辺イウ,
辺アイと辺エウ } 平行



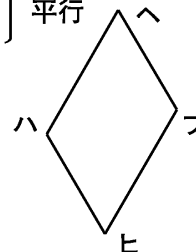
・辺カケと辺キク,
辺カキと辺ケク } 平行



・辺サセと辺シス,
辺サシと辺セス } 平行



・辺タテと辺チツ,
辺タチと辺テツは
平行



・辺ハへと辺ヒフ
辺ハヒと辺ヘフは
平行

みんな
平行四角形
だよ。

形やかたむきが
ちがっていても
みんな平行四角
形なんだよ。

