

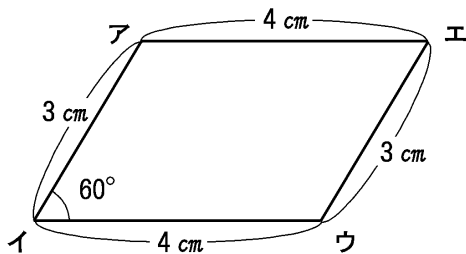


小 / 算数 / 4年 / 図形 /
四角形 / 理解シート

へいこうし へんけい 平行四辺形は、どうやってかくの



へいこうし へんけい
下の図のような平行四辺形をかいてみよう。



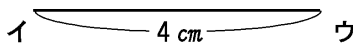
辺アエの長さは
4 cmだね。
60°の角は分度
器でかくんだよ。



おぼえて
おこう

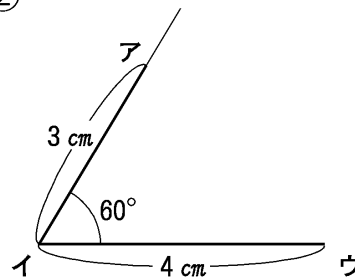
●①～④の順に、上の平行四辺形アイウエをかきます。

①



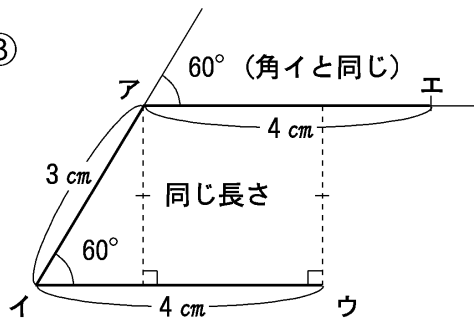
- 4 cmの直線をひいて、はしをイ、ウとする。

②



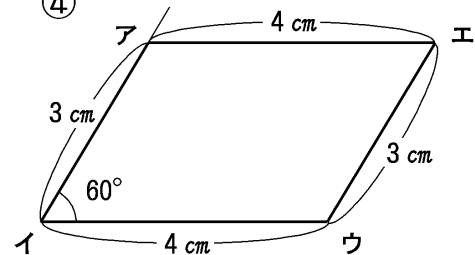
- イの角を60°にとり、直線をひく。
- イから3 cmのところのアをとる。

③



- アから辺イウに平行な直線をひく。
(ひき方は2とおりある)
- アから4 cmのところのエをとる。

④



- 点エと点ウを直線で結ぶ。