

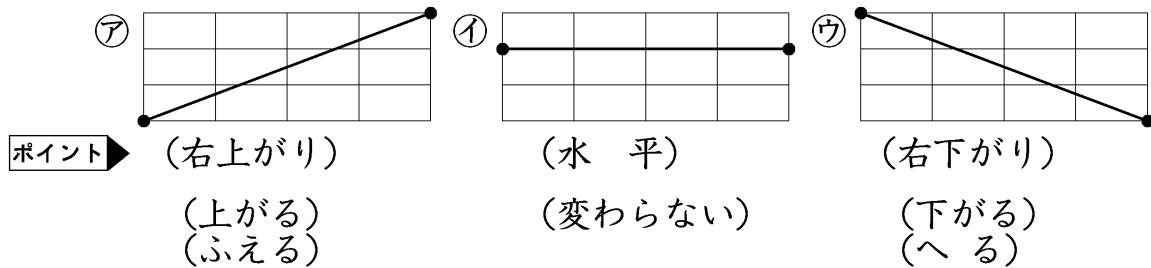


小 / 算数 / 4年 / 数量関係 /  
折れ線グラフ / 理解シート

お せん か かた  
折れ線のかたむきと変わり方は、どうなっているの

1 折れ線のかたむきと変わり方の<sup>かんけい</sup>関係を試してみます。

① かたむきと変わり方は、下の3つの場合です。



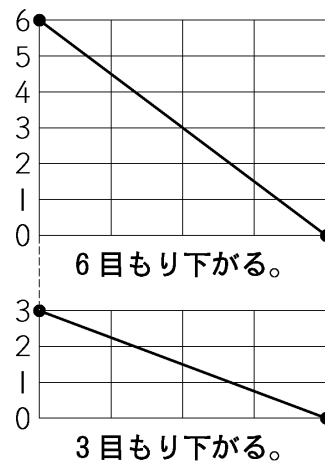
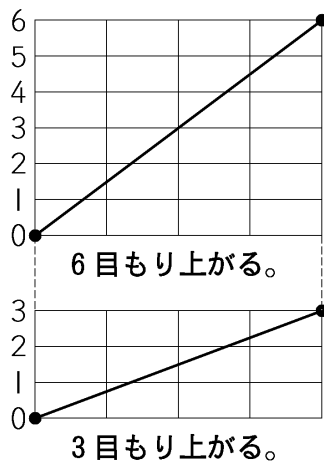
2 かたむきと変わり方の大小をくらべてみます。

① かたむき方によって、変わり方に大小があります。

ア 上がる場合

イ 下がる場合

上の方がかたむきが急で、上がり方が大きいね。



下の方がかたむきがゆるやかで下がり方が小さいよ。



おぼえて  
おこう

折れ線グラフでは、線のかたむきが急であるほど、変わり方が大きいことを表しています。