


算数 学習相談		学研教育情報資料センター  小 / 算数 / 5年 / 数と計算 / 整数と小数 / 理解シート
------------	---	--

小数を  $\frac{1}{10}$ 、 $\frac{1}{100}$ 、 $\frac{1}{1000}$ 、…… にすると、小数点はどう移るの  
(小数点の移り方)

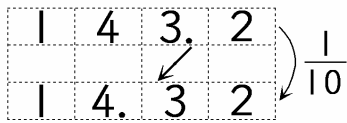


小数を、 $\frac{1}{10}$ 、 $\frac{1}{100}$ 、 $\frac{1}{1000}$ 、…… にすると、小数点は左へそれぞれ1けた、2けた、3けた、……うつ移るんだよ。



143.2を $\frac{1}{10}$ 、 $\frac{1}{100}$ 、 $\frac{1}{1000}$ にしましょう。

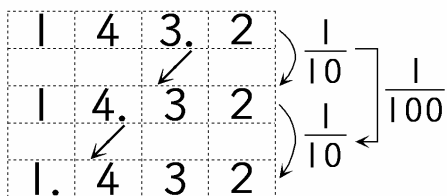
① 143.2を $\frac{1}{10}$ にする。



㊦ 14.32となり、小数点は、左へ1けた移ります。



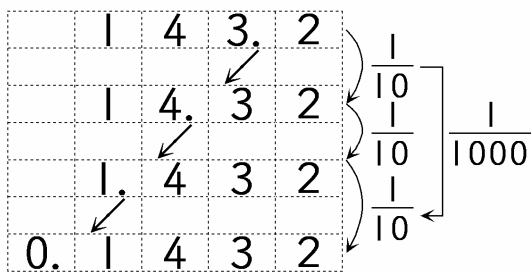
② 143.2を $\frac{1}{100}$ にする。



㊦  $\frac{1}{100}$ は、 $\frac{1}{10}$ の $\frac{1}{10}$ です。

① 143.2→14.32→1.432となり、小数点は、左へ2けた移ります。

③ 143.2を $\frac{1}{1000}$ にする。



㊦  $\frac{1}{1000}$ は、 $\frac{1}{10}$ の $\frac{1}{10}$ の $\frac{1}{10}$ です。

① 143.2→14.32→1.432→0.1432となり、小数点は、左へ3けた移ります。

▶注意◀ 一の位に0、それと小数点をつけたすことをわすれないようにします。