


算数 学習相談		学研教育情報資料センター
		小 / 算数 / 6年 / 量と測定 / 生活と単位 / 理解シート

## 長さのなかまの単位の関係は、どうなっているの



$m$ の単位の関係の表を作って整理するといよいよ。

1

$m$ のなかまの単位を思い出してみましょう。

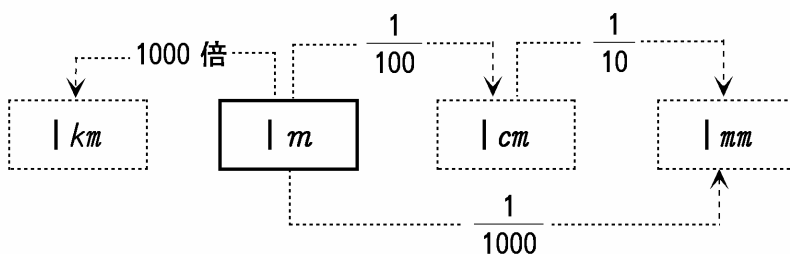
- $1\text{ cm} = 10\text{ mm}$
- $1\text{ m} = 100\text{ cm}$
- $1\text{ km} = 1000\text{ m}$

長さの単位は、全部勉強しているよ。思い出してね。



2

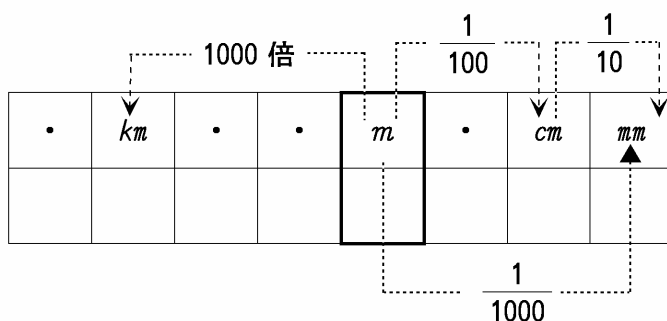
$m$ のなかまの単位の関係を調べましょう。



- $m$ の前の、 $k$  (キロ) は1000倍,  $c$  (センチ) は100分の1,  $m$  (ミリ) は1000分の1を表しています。

3

$m$ のなかまの単位の関係を表にしましょう。



$m$ がもとになっているんだよ

