


6年

算数 学習相談		学研教育情報資料センター
		小 / 算数 / 6年 / 図形 / 立体 / 理解シート

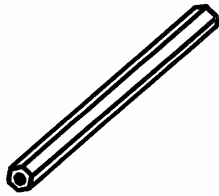
身のまわりの角柱には、どんなものがあるの



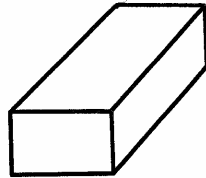
2つの底面^{ていめん}が、同じ形で同じ大きさの柱のようなものを見つければ
いいんだよ。

1

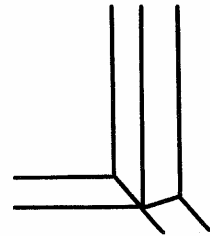
つくえのまわりや、家の中で、さがしてみましよう。



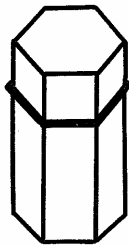
・えんぴつ (六角柱)




・字消し (四角柱)



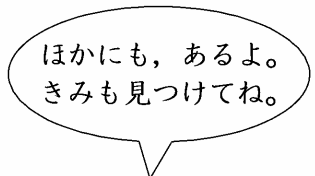
・柱 (四角柱)



・おかし箱 (六角柱)




・さいころ (四角柱)



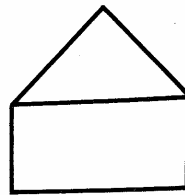
ほかにも、あるよ。
きみも見つけてね。

2


学校や町の中で、さがしてみましよう。



・ロッカー (四角柱)



・プリズム (三角柱)



・ビル (四角柱)

〔覚えておこう〕 立方体や直方体は、四角柱と考えることもできます。