


6年

算数 学習相談		学研教育情報資料センター 小 / 算数 / 6年 / 図形 / 立体 / 理解シート
------------	---	--

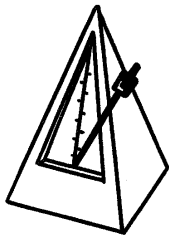
身のまわりの^{かくすい}角錐には、どんなものがあるの




^{ていめん}底面が1つで、先がとがった形のものを見つけられればいいんだよ。

1

つくえのまわりや、家の中で、さがしてみましよう。



・メトロノーム (^{しかくすい}四角錐)




・おかし (^{さんかくすい}三角錐)

家の中で、角錐のものは、なかなか見つからないね。

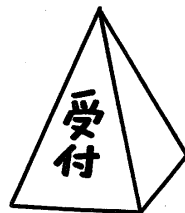


2

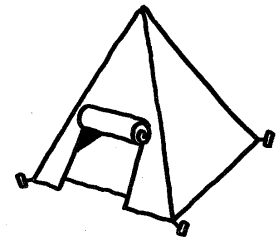
学校や町の中で、さがしてみましよう。




・ピラミッド (四角錐)



・受付の標識 (^{ひょうしき}四角錐)



・テント (四角錐)



・教会の屋根 (四角錐)