


算数 学習相談		学研教育情報資料センター
		小 / 算数 / 6年 / 数量関係 / 資料の調べ方 / 理解シート

ちらばりの数直線から，どんなことを読み取るの



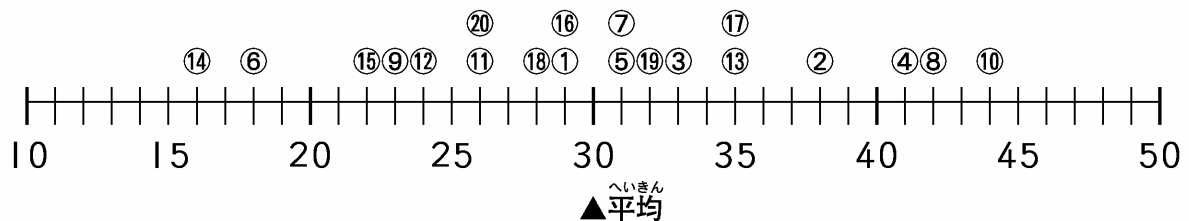
データがあるはば，データの個数の多いところ，データの個数でできる形などを読み取ればいいんだよ。

1

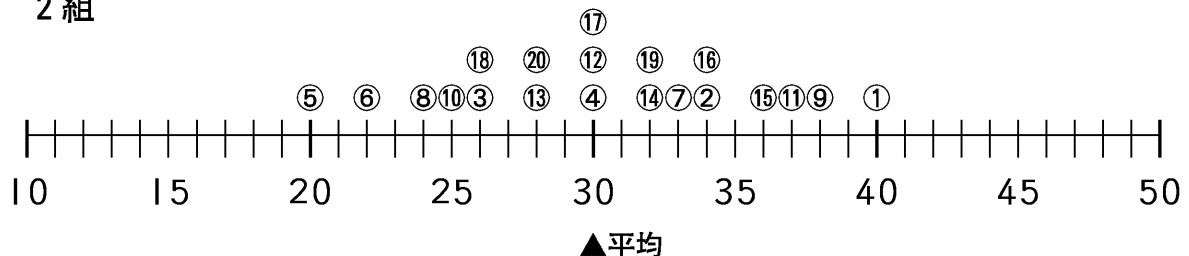
下の2つのちらばりの数直線で，考えてみましょう。

・下の図は，1組と2組のソフトボール投げの記録です。単位は m です。

1組



2組



2

上の図を見て，気がついたことをまとめましょう。

- ① ちらばりのようすを調べましょう。
 - ・1組は，すその広いなだらかな山になっています。
 - ・2組は，すそのせまい山になっています。
 - ・2組は，平均のところにかたまっているけど，1組はばらばらになっています。
- ② ちらばりのはんいを調べましょう。
 - ・1組は，2組に比べて，左右のひろがりが大きくなっています。
- ③ 山の高さを調べましょう。
 - ・1組より2組の方が高い山になっています。

気がついたことを
まとめれば，
いいんだよ。

