



# 6年

算数 学習相談		学研教育情報資料センター
		小 / 算数 / 6年 / 数量関係 / 資料の調べ方 / 理解シート

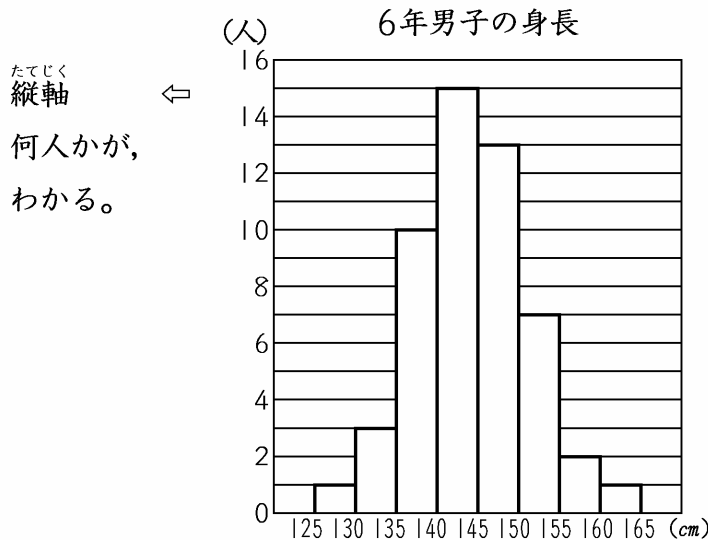
## 柱状グラフの読み取りは、どのようにするの



柱状グラフでは、全体のちらばり、いちばん高いところ、全体の形などを読み取るといいよ。

1

下の柱状グラフで調べてみましょう。



柱の高いところや、柱がどのような形にならんでいるかに、目をつけるといいよ。



2

いちばん人数が多いのは、どのような人か読み取りましょう。

- ・いちばん人数が多いのは、いちばん高いところまで、柱がのびています。
- ・人数は、柱の上の線と縦軸の目盛りから、15人いることがわかります。
- ・どんな人かは、柱の下の横軸の左右の数からわかります。
- ・左の数はふくみ、右の数はふくまないことに、きめています。
- ・140cm以上145cm未満の人であることがわかります。

3

ちらばりのようすのとくちょうをいみましょう。

- ・140cm以上145cm未満の人を中心に、そこからはなれるにつれて、人数が減っています。
- ・6年生男子の身長は、125cm以上165cm未満です。

[注意] 柱状グラフは、棒グラフとちがって、柱(棒)の長さを読み取るだけでなく、横軸が「○cm以上□cm未満」のように、はばをもった量であることを、しっかり読み取ります。